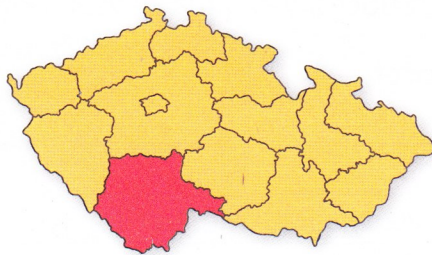


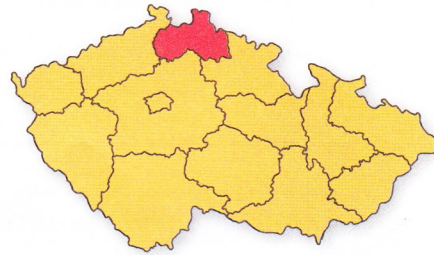
7. Pojmenuj vyznačené kraje na mapkách.



1.




2.



3.

8. Spoj si obrázky a informace pod stejnými písmeny. Podle typických znaků poznáš, o které kraje se jedná. Vypiš je.



A

- Škodovy závody
- Mže, Radbuza, Úhlava, Úslava




C

- horký léčebný pramen Vřídlo
- založeny Karlem IV.
- soutok Ohře a Teplé



D

- soutok Labe a Orlice
- safari



B

- řeka Nisa
- Jablonec nad Nisou
- rozhledny



A

B

C

D