


Dělení dvěma, polovina

5. Při dalším tréninku přinesl trenér dvakrát méně míčků než v úloze 4. **Kolik míčků trenér přinesl?**

Výpočet:



Odpověď:

6. Děti budou hrát vybíjenou. Rozděl je do dvou družstev tak, aby byl v každém družstvu stejný počet hráčů. Do zeleného kroužku dej každého, koho si určí kapitán **Dominik**. Do červeného kroužku dej toho, koho si vybere kapitánka **Daniela**. Volba je na tobě. Nezapomeň, kapitáni jsou také členy družstva a ve volbě hráčů se spravedlivě střídají.




Kolik je družstev?


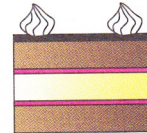


Kolik dětí je v každém družstvu?

Výpočet:

Odpověď: V každém družstvu je dětí.




7. Rozděl vše na poloviny. Když vše rozdělíš na 2 stejně velké části, spravedlivě vše podělíš mezi 2 bratry, Lolka a Bolka.



8. Lolek a Bolek si rozdělili ovoce na polovinu. Zapiš příklad na dělení a vyznač, kolik kusů ovoce každý bratr dostal.



$$8 : 2 = 4$$



.....



.....




.....


Pamatuj si!

Polovinu daného počtu získáme, pokud počet dělíme 2.


9. Maminka rozdělila talíř šlehačkou napůl. Na každou polovinu talíře dala stejný počet jahod. Jahody dokresli a zapiš jako příklad na dělení, kolik jahod z celkového počtu je na polovině talíře.




$$6 : 2 = 3$$



.....



.....



.....