


7. U babičky na dvoře běhá 7 slepic. Kolik mají celkem nohou?



celkem slepic

1 slepice nohy

celkem nohou

Odpověď:


.....
.....

Výpočet:

8. Každé dítě nakreslilo 2 obrázky. Kolik obrázků nakreslil různý počet dětí? Doplň tabulku.

počet dětí	5	2	7	9	3
příklad					
počet obrázků					

9. Hrnčířka nazdobila 4 hrníčky. Na každý hrníček nakreslila 2 jahody. Kolik jahod celkem hrnčířka nakreslila?



celkem hrníčky

na každém hrníčku jahody

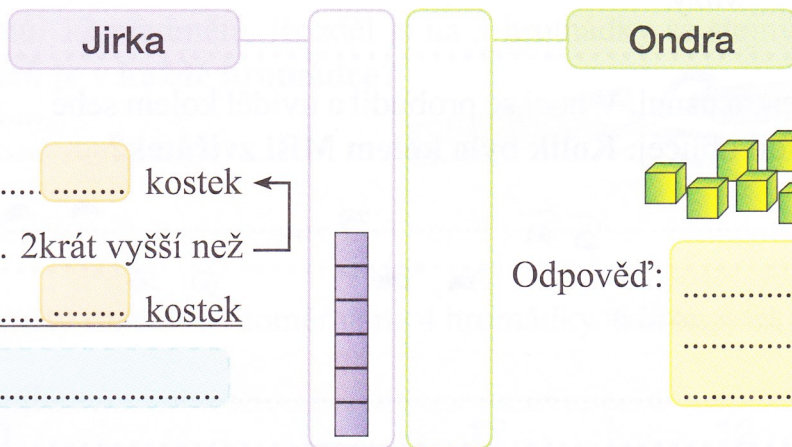
celkem jahod

Odpověď:

.....
.....

Výpočet:

10. Jirka postavil věž z 6 kostek. Ondrova věž je dvakrát vyšší. Z kolika kostek je postavena Ondrova věž? Ondrovu věž nakresli, запиš výpočet a odpověz.



Jirkova věž kostek

Ondrova věž 2krát vyšší než

Ondrova věž kostek

Odpověď:

.....
.....
.....

Výpočet:

11. Doplň chybějící čísla.

- $\cdot 2 = 8$
- $\cdot 2 = 18$
- $\cdot 2 = 4$
- $\cdot 2 = 12$
- $\cdot 2 = 10$
- $\cdot 2 = 6$
- $\cdot 2 = 20$
- $\cdot 2 = 2$