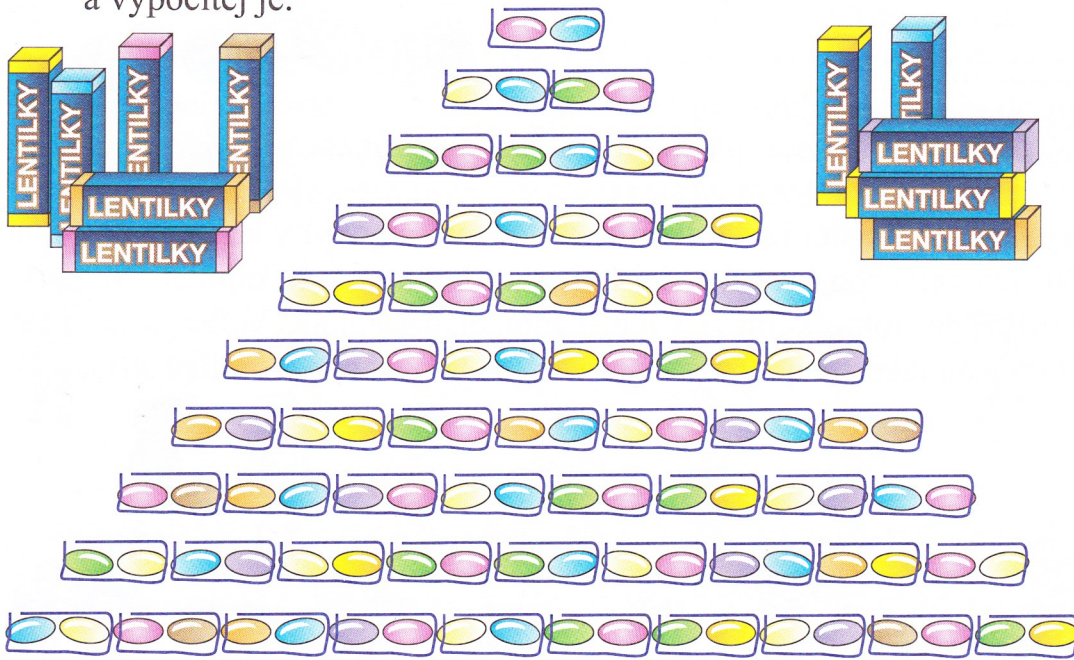




1. Lentilky rozděl po dvou do každé krabičky. Kolik krabiček potřebuješ? Zapiš příklady a vypočítej je.



$2 : 2 = 1$

.....

.....

.....

.....

.....


.....

.....

.....

.....

2. Podle obrázků zapiš příklady na dělení a vypočítej je.



$6 : 2 = 3$

.....


.....

.....

3. Vypočítej.

$8 : 2 =$	$6 : 2 =$	$16 : 2 =$	$4 : 2 =$	$14 : 2 =$
$10 : 2 =$	$18 : 2 =$	$20 : 2 =$	$12 : 2 =$	$2 : 2 =$

Každé číslo v příkladu můžeme pojmenovat. Zajímá tě jak? Podívej se.




4. Trenér přinesl na kurt 16 míčků. Každý hráč si vzal 2 míčky. Žádný míček nezbyl. Kolik hráčů na kurtu trénuje?

celkem .....  ..... míčků

každý hráč .....  ..... míčky

celkem .....  ..... hráčů

Výpočet:



Odpověď:

.....

.....