



















1 Ke každému obrázku napište název geometrického tělesa.

A) 	B) 	C) 	D) 	E) 	F) 
<input type="text"/>	<input type="text"/>	<input type="text"/>	<input type="text"/>	<input type="text"/>	<input type="text"/>

2 Říkejte názvy věcí, které připomínají dané tvary.

- | | | |
|----------|------------|-----------|
| A) kužel | C) krychle | E) válec |
| B) koule | D) kvádr | F) jehlan |

3 Rozhodněte, z kolika kostek je každá stavba postavena.

A) 	B) 	C) 	D) 	E) 	F) 
<input type="text"/>	<input type="text"/>	<input type="text"/>	<input type="text"/>	<input type="text"/>	<input type="text"/>
G) 	H) 	I) 	J) 	K) 	L) 
<input type="text"/>	<input type="text"/>	<input type="text"/>	<input type="text"/>	<input type="text"/>	<input type="text"/>

 cone
[kəʊn]

 kužel

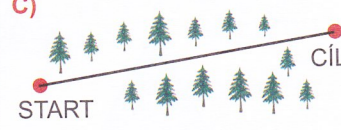
1 Rozhodněte, zda trasa závodu vede po přímé, lomené, nebo křivé čáře. Správnou možnost označte křížkem.



- přímá čára
- křivá čára
- lomená čára




- přímá čára
- křivá čára
- lomená čára



- přímá čára
- křivá čára
- lomená čára

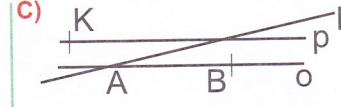
2 Rozhodněte, které zápisy jsou správné, a označte je křížkem.



- $A \in n$
- $C \notin n$
- $B \notin n$
- $B \in n$



- $A \in l$
- $C \notin k$
- $A \notin k$
- $D \notin k$

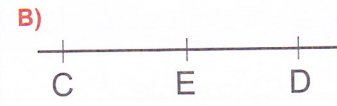


- $K \in k$
- $B \in o$
- $A \notin p$
- $B \notin o$

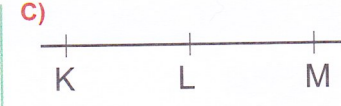
3 Rozhodněte, které zápisy jsou správné, a označte je křížkem.



- $A \in AB$
- $B \in AB$
- $A \notin AB$
- $B \notin AB$




- $E \in CD$
- $D \in CE$
- $E \notin CD$
- $D \notin CE$

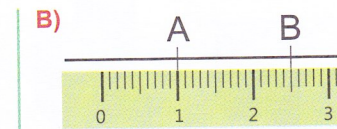


- $KL \cong LM$
- $LM \cong KL$
- $KM \cong LM$
- $LM \cong KM$

4 Rozhodněte, zda $|AB| = 25 \text{ mm}$. Správnou možnost označte křížkem.



- ano
- ne

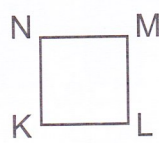
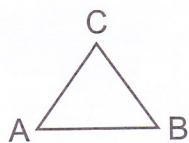


- ano
- ne



- ano
- ne

5 Rozhodněte, která tvrzení jsou správná, a označte je křížkem.



- A, B, C jsou vrcholy trojúhelníku.
- K, L, M, N jsou vrcholy obdélníku.
- Úsečka MN je vrchol čtverce.
- Úsečka MN je strana čtverce.

Rovina
Rovinu s
neomeze
Objekty v
pomocí 2

Mezi rov
čtverec,
Zjednoc
Všechny
útvary m
vystřihn

1 Hle
A) Řek
rovín
B) Řek
obje

2 Ro
 Bod
 Přím
 Úse
 Kuž

3 di
[θri:

broken line
[ˈbrəʊkən laɪn]

lomená čára